

**KÖZMİK ODA**

2020 KPSS YENİ NESİL TAMAMI PDF ÇÖZÜMLÜ

# COĞRAFYA


## SORU BANKASI

Editör: Selim IŞIK

Yazar: Yasin YAĞLI

**PDF ÇÖZÜMLER  
İÇİN QR KOD**

[www.kozmikoda.com.tr](http://www.kozmikoda.com.tr)



**KÖZMİK ODA**  
YAYINCILIK

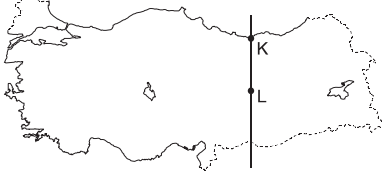
## İÇİNDEKİLER

TÜRKİYE’NİN COĞRAFİ KONUMU (12 Test)	5
TÜRKİYE’NİN YERYÜZÜ ŞEKİLLERİ: İÇ KUVVETLER (7 Test)	29
TÜRKİYE’NİN YERYÜZÜ ŞEKİLLERİ: DIŞ KUVVETLER (3 Test)	41
TÜRKİYE’NİN İKLİMİ (5 Test)	75
TÜRKİYE’NİN BİTKİ ÖRTÜSÜ (10 Test)	97
TÜRKİYE’NİN NÜFUSU (5 Test)	103
TÜRKİYE’DE YERLEŞME (8 Test)	133
TÜRKİYE’DE TARIM (12 Test)	139
TÜRKİYE’DE HAYVANCILIK (19 Test)	171
TÜRKİYE’DE TİCARET (17 Test)	181
TÜRKİYE’DE TURİZM (16 Test)	193
TÜRKİYE’DE ULAŞIM (8 Test)	205
TÜRKİYE’DE MADENLER (8 Test)	217
TÜRKİYE’DE SANAYİ (8 Test)	233
TÜRKİYE’NİN KIYI BÖLGELERİ (8 Test)	245
TÜRKİYE’NİN İÇ BÖLGELERİ (8 Test)	261





1.



Haritadaki K ve L kentleriyle ilgili olarak aşağıdaki bilgilerden hangisi yanlıştır?

- A) 21 Haziran tarihinde K kentindeki gündüz süresi L kentinden daha uzundur.
- B) K kenti yıl boyunca güneşten daha fazla enerji alır.
- C) Yıl boyunca her iki kentte de cisimlerin gölgesi kuzeye düşer.
- D) 23 Eylül tarihinde her iki kentte de güneşin doğuş saati aynıdır.
- E) Her iki kentte ulusal saatle yerel saat arasındaki fark aynıdır.

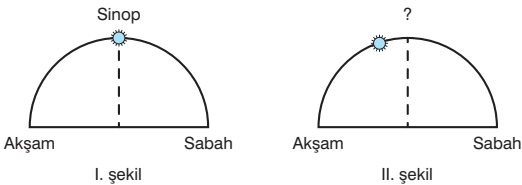
2. Türkiye'de, enerji tasarrufu sağlamak amacıyla sürekli olarak yaz saati uygulamasına gidilmiştir. Bu uygulama kapsamında  $45^\circ$  Doğu meridyeninin yerel saati ulusal saat olarak kullanılmaktadır.



Buna göre haritada gösterilen merkezlerden hangisinde yerel saat ile ortak saat arasında fark en azdır?

- A) I
- B) II
- C) III
- D) IV
- E) V

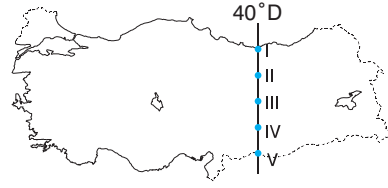
3.



Güneş Sinop'ta yukarıdaki I. şekilde gösterilen konumdayken, aynı anda aşağıdaki kentlerden hangisinde II. şekilde gösterilen konumda olur?

- A) İzmir
- B) Van
- C) İstanbul
- D) Ankara
- E) Edirne

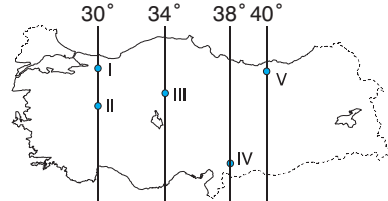
4.



Yukarıdaki haritada  $40^\circ$  Doğu boylamı üzerinde numaralarla gösterilen yerlerden hangisinde, 21 Haziran'da gündüz süresi diğerlerinden daha uzundur?

- A) I
- B) II
- C) III
- D) IV
- E) V

5.



Yukarıdaki Türkiye haritasında gösterilen yerlerin hangisinde yıl boyunca gece-gündüz süre farkı daha azdır?

- A) I
- B) II
- C) III
- D) IV
- E) V

6.

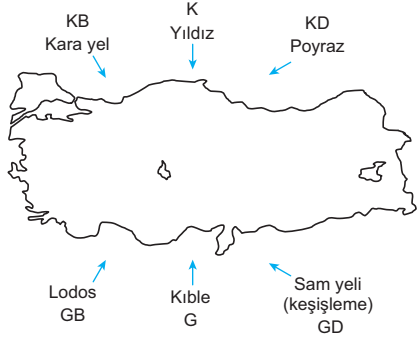


Yukarıdaki haritada gösterilen kentlerde 21 Haziran'da yaşanan gündüz süresinin farklı olmasının nedeni aşağıdakilerden hangisidir?

- A) Başlangıç Meridyenine uzaklıkları
- B) Ekvator'a uzaklıkları
- C) Kıyı şekilleri
- D) Bakı durumları
- E) Bulutluluk oranları



1. Aşağıdaki Türkiye haritasında esiş yönleri gösterilen rüzgârlardan kara yel, yıldız ve poyraz sıcaklığı düşürürken sam yeli, kible ve lodos sıcaklığı yükseltmektedir.



**Bu durum, Türkiye'nin aşağıdaki özelliklerinden hangisini kanıtlar?**

- A) Üç tarafının denizlerle çevrili bir yarımada olduğunu  
B) Batıdan doğuya doğru gidildikçe yükseltisinin arttığını  
C) Yer şekillerinde ortalama yükselti ve engebenin fazla olduğunu  
D) Dönenceler dışında olduğunu  
E) Kuzey Yarım Küre'de yer aldığını



**Yukarıdaki haritada numaralarla gösterilen yerlerin hangisinde kalıcı karlara rastlanmaz?**

- A) I B) II C) III D) IV E) V

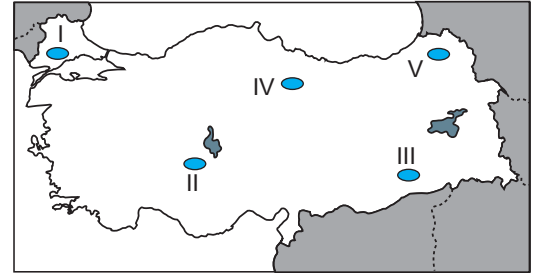
3. Aşağıdakilerin hangisi küresel ısınmanın sonuçlarından biri değildir?

- A) Salgın hastalıkların yaşanması  
B) Deniz seviyelerinin yükselmesi  
C) Tarımsal üretimin azalması  
D) Dünyanın bazı bölgelerinde seller yaşanırken bazı bölgelerinde kuraklığın etkili olması  
E) Deprem ve volkanizma olaylarının artış göstermesi

4. Aşağıdakilerden hangisi, Türkiye'de yaz aylarında yaşanan bir durum değildir?

- A) Erzurum'da yükselim yağışlarının görülmesi  
B) Şanlıurfa'da tarımda sulamaya gereksinim duyulması  
C) Antalya'ya gelen yabancı turist sayısının artması  
D) Adana'da yaylacılık etkinliklerinin yapılması  
E) Ankara'da kırç ve kırağı olaylarının görülmesi

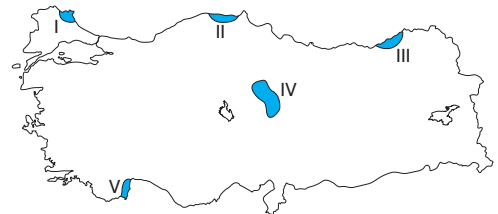
5. Bir yerde yaşayan karasallığın derecesini yaz ile kış sıcaklıkları arasındaki fark belirler.



**Buna göre, yukarıdaki haritada gösterilen alanların hangisinde karasallık şiddeti daha azdır?**

- A) I B) II C) III D) IV E) V

6. Doğal koşullara bağlı olarak oluşan ve yenilenen orman alanları doğal, insan etkisiyle oluşan ve yenilenen orman alanları ise antropojen orman alanları olarak nitelendirilir.



**Yukarıdaki haritada numaralandırılarak koyu renkle gösterilen yerlerin hangisinde antropojen orman alanları daha geniş yer kaplar?**

- A) I B) II C) III D) IV E) V



1. Aşağıdaki tabloda son yıllardaki sayım sonuçlarına göre bazı ülkelerin kırsal nüfuslarının genel nüfus içerisindeki payları gösterilmiştir.

Ülke	Kırsal Nüfus Oranı (%)
ABD	2,1
Almanya	2,2
Brezilya	19,8
Türkiye	33,4
Hindistan	55

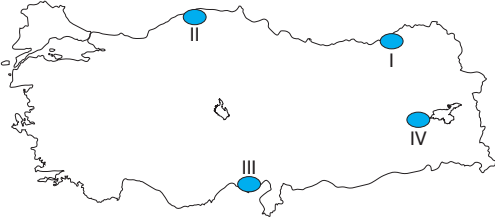
**Bu tabloya dayanarak;**

- I. bir ülkenin toplam nüfus miktarı fazla ise kırsal nüfus oranı da fazladır,
- II. sonraki yıllarda yapılan sayım sonuçlarına göre ülkelerin kırsal nüfus oranları azalır,
- III. ekonomik kalkınma oranı yüksek olan ülkelerin kırsal nüfus oranları az olur,
- IV. yüz ölçümleri geniş olan ülkelerin kırsal nüfus oranları düşüktür

**Yorumlarından hangileri yapılabilir?**

- A) Yalnız I                      B) Yalnız III                      C) I ve III  
D) II ve III                      E) II ve IV

2. Aşağıdaki haritada bazı alanlar numaralandırılarak mavi renkle gösterilmiştir.



**Bu alanlarından hangileri tarımsal faaliyetlerde çalışma amaçlı daha çok mevsimlik işçi göçü alır?**

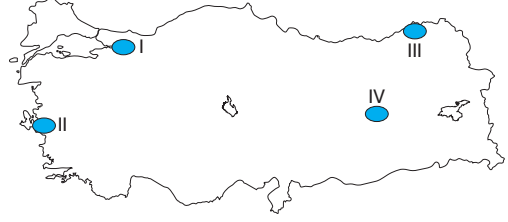
- A) Yalnız II                      B) Yalnız IV                      C) I ve II  
D) I ve III                      E) III ve IV

3. Kentler; tarım, sanayi, turizm, ticaret gibi temel fonksiyonları dikkate alınarak gruplandırılabilir.

**Buna göre, aşağıdaki kentlerden hangisinin temel fonksiyonu diğerlerinden farklıdır?**

- A) Nazilli                      B) Akhisar                      C) Fethiye  
D) Söke                      E) Karaman

4. Aşağıdaki haritada bazı alanlar numaralandırılarak mavi renkle gösterilmiştir.



**Bu alanlardan hangilerinde doğum oranları fazla olmasına rağmen nüfus artış hızı düşüktür?**

- A) Yalnız II                      B) Yalnız III                      C) I ve II  
D) II ve IV                      E) III ve IV

5. Türkiye'de İzmir, Ankara, İstanbul gibi göç alan kentlerde erkek nüfus oranının fazla olduğu görülür.

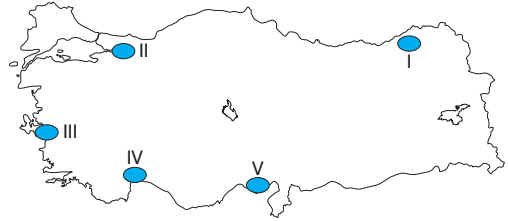
**Bu durum,**

- I. eğitim,
- II. sağlık,
- III. istihdam,
- IV. doğum oranı

**faktörlerinden hangileriyle ilişkilidir?**

- A) Yalnız I                      B) Yalnız II                      C) Yalnız III  
D) II ve IV                      E) III ve IV

- 6.



Bir ilin aldığı göç miktarı, verdiği göç miktarından fazlaysa net göç hızı pozitif, verdiği göç miktarı aldığı göç miktarından fazlaysa net göç hızı negatiftir.

**Buna göre, haritada numaralandırılarak mavi renkle gösterilen alanlardan hangisinde net göç hızı negatiftir?**

- A) I                      B) II                      C) III                      D) IV                      E) V



## TÜRKİYE'DE YERLEŞME

1. Aşağıdaki şehirlerimizden hangisinin kısa sürede büyüüp gelişmesinde diğerlerinden farklı bir fonksiyonel özellik etkili olmuştur?

A) İzmit                      B) Karabük                      C) Alanya  
D) İskenderun                      E) Ereğli

2. Türkiye'de sanayinin belli bölgelerde yoğunlaşmasına bağlı olarak bu bölgelerdeki bazı şehirlerde hızlı bir kentleşme meydana gelmiştir. Bu şehirler, daha önceleri küçük bir kasaba görünümündeyken öne çıkan bir ekonomik faaliyete bağlı olarak kısa sürede büyük bir kent merkezine dönüşmüştür.

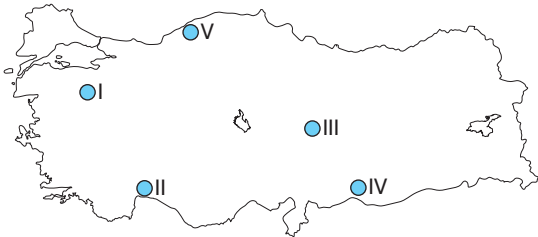
**Bu duruma;**

I. Batman,  
II. İskenderun,  
III. Karabük,  
IV. Bilecik,  
V. Manisa

**kentlerinden hangileri bir örnek oluşturmaz?**

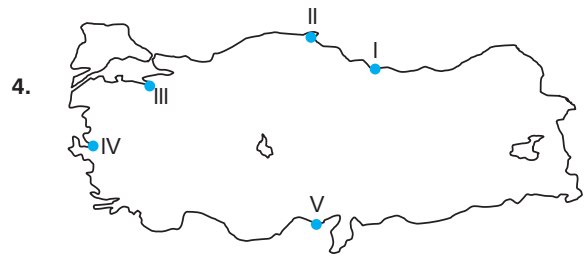
A) Yalnız I                      B) Yalnız II                      C) I ve III  
D) III ve IV                      E) IV ve V

3. Divan; küçük ve dağınık yerleşmelerdir. Orman açmaları ile elde edilen arazilerde gelişen bu basit yerleşme şeklinde akrabalık bağı hakimdir.



**Buna göre, yukarıdaki Türkiye haritasında işaretlenen alanlardan hangisindeki kırsal kesimlerde bu tür yerleşme tipi yaygındır?**

A) I                      B) II                      C) III                      D) IV                      E) V



4.

**Yukarıdaki Türkiye haritasında işaretlenen limanlardan hangisinin hinterlandının (art bölge) daha dar olduğu söylenebilir?**

A) I                      B) II                      C) III                      D) IV                      E) V

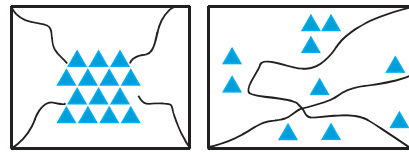
5. I. Adana  
II. Bursa  
III. İzmir  
IV. Aydın

**Yukarıdaki şehirlerden hangilerinde birden fazla ekonomik fonksiyonunun ön plana çıktığı söylenemez?**

A) Yalnız I                      B) Yalnız II                      C) Yalnız IV  
D) I ve II                      E) I ve III

6. Aşağıda Türkiye'de görülen iki yerleşme tipi verilmiştir.

▲ Ev                      — Yol



Şekil - I

Şekil - II

**Bu yerleşme tipleri ile ilgili aşağıdaki yargılardan hangisine ulaşamaz?**

- A) I. yerleşme tipi ülkemizde yer şekillerinin sade olduğu İç ve Güneydoğu Anadolu Bölgesi'nde görülür.  
B) II. yerleşme tipi ülkemizde dağlık ve engebeli arazilerde görülür.  
C) II. yerleşme tipinde tarım alanları küçük ve parçalı şeklindedir.  
D) I. şekilde su kaynakları daha yaygın olarak bulunur.  
E) I. şekilde evler birbirine yakın olarak bir merkezde toplanmışlardır.



## TÜRKİYE'DE TARIM

1. Kuraklığın şiddetli ve yağışın fazla olması şeker pancarı tarımını engeller.

**Buna göre, aşağıdaki illerin hangisinin şeker pancarı tarımına daha elverişli olduğu söylenebilir?**

- A) Şanlıurfa B) Rize  
C) Afyonkarahisar D) Gaziantep  
E) Diyarbakır

2. Türkiye'de bir yörede yürütülen tarım faaliyetlerinde;

- tahıl tarımının yaygın olması,
- ekim alanlarının nadasa bırakılması,
- üretim miktarının yıllara göre dalgalanmalar göstermesi

**özelliklerin görülmesi, bu yöre hakkında aşağıdaki yargılardan hangisini destekler?**

- A) Tarımda makine kullanımının yaygın olduğu  
B) Üretimin doğal koşullara bağlı olduğu  
C) Yer şekillerinin engebeli olduğu  
D) Tarım sektöründe çalışan nüfus oranının az olduğu  
E) Daha çok endüstri bitkilerinin ekiminin yapıldığı

3. Türkiye'de tarımsal verimde son yıllarda artışın olmasında aşağıdakilerden hangisi etkili değildir?

- A) Sulama olanaklarının artması  
B) Gübrelemenin artması  
C) Tarım alanlarının artması  
D) Makineleşmenin artması  
E) İyi tohum kullanımının yaygınlaşması

4. Benzer iklim şartlarına sahip ülkeler arasında tarım ürünü ticaret hacminin fazla olması beklemez.

**Buna göre, Türkiye ile aşağıdaki ülkelerden hangisi arasında tarım ürünü ticaret hacmi daha fazladır?**

- A) Yunanistan B) Gürcistan C) Rusya  
D) İspanya E) İtalya

5. Aşağıdaki tablolarda iki farklı tarım ürününün Türkiye'de üç değişik bölgedeki yetişme oranı gösterilmiştir.

Tablo I	
Bölgeler	Türkiye Üretimindeki Oranı (%)
Karadeniz Bölgesi	15
Ege Bölgesi	50
Güneydoğu Anadolu Bölgesi	20

Tablo II	
Bölgeler	Türkiye Üretimindeki Oranı (%)
Ege Bölgesi	36
Akdeniz Bölgesi	27
Güneydoğu Anadolu Bölgesi	44

**Bu tarım ürünleri, aşağıdakilerden hangisi olabilir?**

	Tablo I	Tablo II
A)	Tütün	Pamuk
B)	Üzüm	Zeytin
C)	Turunçgiller	Muz
D)	Zeytin	Gül
E)	Soya fasulyesi	Üzüm

6. Aşağıdakilerin hangisinde verilen illerde yetiştirilen tarım ürünleri, daha çok benzerlik gösterir?

- A) Antalya – İzmir  
B) Sinop – Çorum  
C) Hatay – Şanlıurfa  
D) Trabzon – Gümüşhane  
E) İstanbul – Van



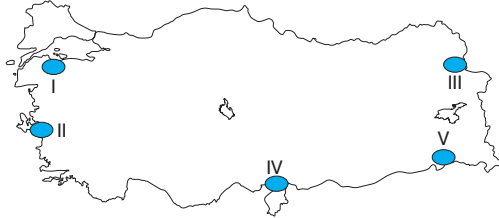
7. Türkiye'nin yer şekillerinde engebe ve ortalama yükseltinin fazla olmasının, aşağıdakilerden hangisi üzerinde olumlu etkiye neden olduğu söylenebilir?

A) Kara – demir yolu ulaşımı  
B) Tarım alanlarının genişliği  
C) Hidroelektrik enerji üretim potansiyeli  
D) Toprak verimliliği  
E) Sanayinin gelişmesi

8. Türkiye'de bir fosfatlı gübre fabrikasının ham maddeye yakınlığı dikkate alındığında, aşağıdakilerin hangisinde kurulması en uygundur?

A) Sivas – Divriği  
B) Malatya – Hekimhan  
C) Balıkesir – Havran  
D) Mardin – Mazıdağı  
E) Elazığ – Maden

9. Dünya'daki birçok gelişmiş ülkede olduğu gibi Türkiye'de de rüzgâr enerji santralleri yaygınlaşmaya başlamıştır.



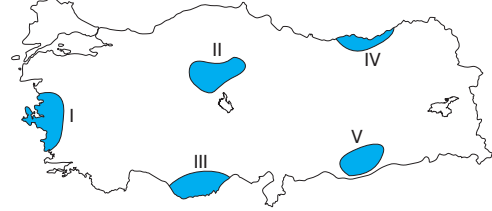
Bu santrallerin, yukarıdaki haritada numaralandırılarak koyu renkle gösterilen alanların hangilerinde yoğunlaştığı söylenemez?

A) Yalnız I  
B) I ve II  
C) II ve III  
D) III ve V  
E) IV ve V

10. Türkiye toryum madeni bakımından 380 bin ton rezervi, ile dünyada ikincidir. Türkiye'de bu yeraltı kaynağının rezervleri hangi merkezde tespit edilmiştir?

A) Bursa – Orhaneli  
B) Çorum – Dodurga  
C) Amasya – Çeltek  
D) Erzurum – Aşkale  
E) Eskişehir – Sivrihisar

11. Ülkemizde mevcut en temiz enerji üretim teknolojisi ve doğa dostu olan güneş enerjisi santrallerinde üretilen elektrik 10 yıl devlet garantili gelir sağlamaktadır. Aşağıdaki haritada bazı alanlar numaralandırılarak gösterilmiştir.



Bu alanların hangisini ticari amaçla güneş enerjisi santrali kurmak isteyen yatırımcıların tercih ettiği söylenemez?

A) I  
B) II  
C) III  
D) IV  
E) V

12. Türkiye'de III. Jeolojik Zaman'a ait arazilerin geniş alan kaplamasına bağlı olarak aşağıdaki enerji kaynaklarından hangisinin yatakları daha yaygın olarak bulunur?

A) Linyit  
B) Taş kömürü  
C) Antrasit  
D) Petrol  
E) Doğal gaz

13. Temiz ve sürekli bir enerji kaynağı olduğu için dünyada gittikçe yaygınlaşan rüzgâr enerjisi santralleri Türkiye'de de son yıllarda artış göstermektedir. Bu santrallerin Türkiye'de ilk kurulmaya başlandığı alan aşağıdakilerden hangisidir?

A) Trakya  
B) Kıyı Ege  
C) Sinop çevresi  
D) Taşeli Yarımadası  
E) Konya-Karaman arası

14. GAP kapsamındaki Fırat ve Dicle Nehirleri üzerinde kurulması planlanan 22 baraj ve 19 hidroelektrik santrali ile yılda 27 milyar kilovatsaat elektrik enerjisi üretilmesinin yanı sıra 1.822.000 hektar tarım alanının sulanması da planlanmıştır.

Aşağıdakilerden hangisi bu proje kapsamındaki hidroelektrik santrallerinden biri değildir?

A) Atatürk Barajı  
B) Ilısu Barajı  
C) Deriner Barajı  
D) Birecik Barajı  
E) Karkamış Barajı



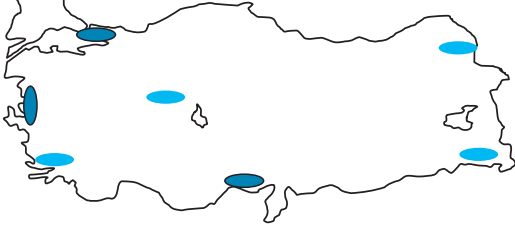


## TÜRKİYE'NİN KIYI BÖLGELERİ

9. Türkiye üzerinden aşağıdaki ülkelerden hangisine yapılan transit taşımacılıkta Doğu Karadeniz Bölümü'nün önemli yeri vardır?

- A) Irak B) İran C) Suriye  
D) Lübnan E) Ürdün

10. Bölge; farklı amaçlar için yeryüzündeki benzer özellik gösteren alanların sınırlarının belirlenmesidir.



Buna göre yukarıdaki Türkiye haritasında ve renklerle gösterilen alanlar, aşağıdaki bölge kavramlarından hangisine dahil edilebilirler?

- |                        |                      |
|------------------------|----------------------|
| A) Dağlık bölge        | Ovalık bölge         |
| B) Kurak bölge         | Yağışlı bölge        |
| C) Ormanlık bölge      | Bozkır bölgesi       |
| D) Maden bölgesi       | Tarım bölgesi        |
| E) Yoğun nüfuslu bölge | Seyrek nüfuslu bölge |

11. Marmara Bölgesi'nde nüfus artışını, aşağıdakilerden hangisi en az etkiler?

- A) Yer altı kaynaklarının çeşitliliği  
B) Endüstri kuruluşlarının çeşitliliği  
C) Turizm etkinliklerinin yoğunluğu  
D) Ulaşım olanaklarının fazlalığı  
E) İç göçlerin fazlalığı

12. Akdeniz Bölgesi'nde yürütülen aşağıdaki ekonomik etkinliklerden hangisinin Türkiye ekonomisine katkısı en azdır?

- A) Dokuma endüstrisi  
B) Pamuk üretimi  
C) Kıyı balıkçılığı  
D) Turizm  
E) Elektrik üretimi

13. Türkiye'de; yerin derinliklerinde suyun kaynama derecesinden (100 °C) çok daha yüksek sıcaklıkta ve buhar halinde olan sular bulunabilmektedir. 150 °C – 200 °C sıcaklıklardaki bu su buharı sondajlarla yeryüzüne çıkarılarak elektrik elde edilmektedir.

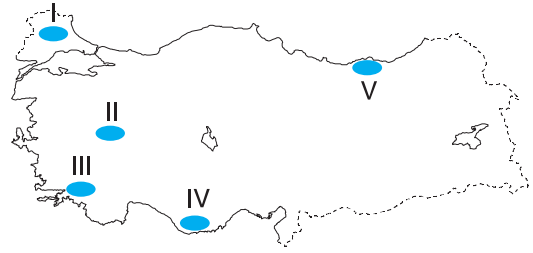
**Bu tür santrallerin bulunduğu coğrafi bölge hakkında;**

- I. fay hatları yaygındır,  
II. deprem riski fazladır,  
III. genç oluşumludur,  
IV. seyrek nüfusludur,  
V. yer şekilleri sadedir

**yorumlarından hangileri yanlış olur?**

- A) Yalnız I B) I ve II C) II ve III  
D) III ve IV E) IV ve V

14.



Yukarıdaki haritada gösterilen alanların hangisinde,

- linyit çıkarımı,
- termik santralden elektrik üretimi,
- turuncgil tarımı,
- turizm

**etkinliklerinin tümü yapılmaktadır?**

- A) I B) II C) III D) IV E) V

15. I. Akarsu boylarının kısa olması  
II. Nem oranının bölge içerisinde farklılık göstermesi  
III. Yüzey şekillerinin engebeli olması  
IV. Toprak türünün farklılık göstermesi

**Yukarıdakilerden hangileri, Karadeniz Bölgesi'nin bitki çeşidi bakımından zengin olmasında etkili değildir?**

- A) Yalnız I B) Yalnız II C) I ve II  
D) II ve III E) III ve IV



7. Aşağıda verilen bölümlerden hangisinde şiddetli yaz kuraklığının yaşanmasına bağlı olarak tarımda sulamaya ihtiyaç daha fazladır?

- A) Yukarı Kızılırmak
- B) Yıldız Dağları
- C) Orta Fırat
- D) Erzurum - Kars
- E) Yukarı Sakarya

8. • Yıldız Dağları  
• Saruhan – Menteşe Yöresi  
• Kırşehir  
• Mardin – Derik

Bu yörelerin ortak özelliği aşağıdakilerden hangisidir?

- A) Arıcılık faaliyetleri çok gelişmiştir.
- B) Demir yolu ulaşımı kara yolu ulaşımından daha çok gelişmiştir.
- C) IV. Jeolojik Zamanda buzullaşmaya uğramışlardır.
- D) I. Jeolojik Zaman da oluşmuş masif kütlelerdir.
- E) Güncel buzulların görüldüğü yerlerdir.

9. Aşağıdakilerden hangisi Güneydoğu Anadolu Projesi (GAP) ile hayata geçirilmesi hedeflenen temel gelişmelerden biri değildir?

- A) Kişi başına düşen milli gelir ile istihdamı artırmak
- B) Bölge dışına yapılan göçleri azaltmak
- C) Tahıl ekim alanlarını artırmak
- D) Bölgeyi sanayi ve hizmet merkezi haline getirmek
- E) Çevreyi korumak ve kalkınmanın sürdürülebilirliğini sağlamak

10. Aşağıda verilen bölümlerden hangisinde sanayi faaliyetleri daha yoğundur?

- A) Dicle
- B) Yukarı Sakarya
- C) Doğu Karadeniz
- D) Antalya
- E) İç Batı Anadolu

11. I. Karadeniz Bölgesi'nde, dağların denize bakan yamaçlarının bol yağış alması  
II. Akdeniz Bölgesi'nde kıyı ile iç kesimler arası kara yolu ulaşımının geçitlerden sağlanması  
III. İç Anadolu Bölgesi'nde tarımsal faaliyetlerde makineleşmenin yaygın olması

Yukarıda bölgelerle ilgili verilen özelliklerden hangilerinin ortaya çıkmasında, yer şekillerinin etkili olduğu söylenebilir?

- A) Yalnız I
- B) Yalnız II
- C) Yalnız III
- D) I ve II
- E) I, II ve III

12. Türkiye'de uzun yıllar boyunca yaşanan sıcaklıkların ortalaması ile oluşturulan bir harita incelendiğinde aşağıdaki sonuçlardan hangisine ulaşılamaz?

- A) Kıyıların sıcaklık değerleri iç kesimlerden yüksektir.
- B) Kıyılarda sıcaklık enlem etkisine bağlı olarak güneyden kuzeye doğru gidildikçe azalır.
- C) Yıllık ortalama sıcaklıkların en yüksek olduğu yerler Akdeniz ve Güney Ege kıyıları ile Güneydoğu Anadolu'dur.
- D) Kıyı ile iç kesimlerin arasındaki sıcaklık farkı kışın azalırken yazın artar.
- E) Erzurum – Kars Bölümü yıllık ortalama sıcaklığın en düşük olduğu yerdir.

13. • Ortalama yükseltisi en fazla olan bölgedir.  
• Sıcaklık ortalamalarının en düşük olduğu bölgedir.  
• Sıcaklık farkı fazladır.

Bazı özellikleri verilen bölge aşağıdakilerden hangisidir?

- A) Karadeniz Bölgesi
- B) Ege Bölgesi
- C) Akdeniz Bölgesi
- D) Marmara Bölgesi
- E) Doğu Anadolu Bölgesi